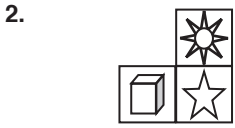


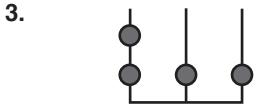
1.  $x = \star, y = \bullet, z = \square$ 

Cevap: D

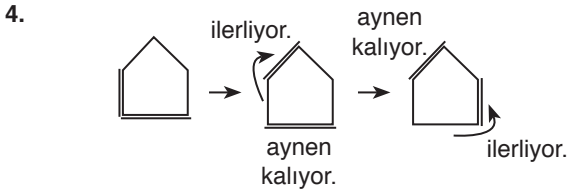


Her sütunda aynı şekiller bulunmakta.

Cevap: B



Cevap: E



Cevap: E



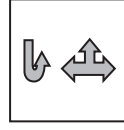
Cevap: B



II. şekildeki taralı alan III şekilde beyazlıyor. Beyaz olanlar taranıyor.

Cevap: E

7.



I'den II'ye alt ayna görüntüsü

II'den III'e saat yönü döndürme

Cevap: E

8.

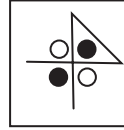


I'den II'ye alttan yukarıya ters çevirme

II'den III'ye sağ tarafta ayna görüntüsü.

Cevap: C

9.



Saatin tersi yönünde çevir.

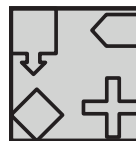
Cevap: E

10.



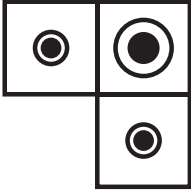
Cevap: C

11. Sola doğru bütün şekil çevrilmekte.



Cevap: D


12.



Her sütunda aynı şekil olacak.

Cevap: D


13.



Siyah daire soldan her seferinde bir azalmakta.

Cevap: B

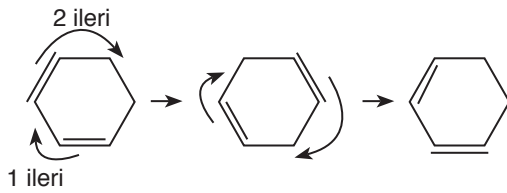
14.



I. ve II. şekiller üst üste konulmakta.

Cevap: B

15.



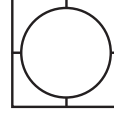
Cevap: C

16.



Cevap: D

17.



Cevap: D

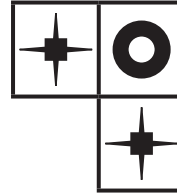
18.



Üst üste konulduğunda iki siyah beyazlaşıyor.

Cevap: C

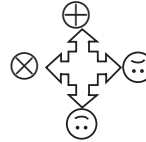
19. Sağa doğru bir kare ilerlemekte



veya her sütunda aynı şekiller olmalı.

Cevap: A

20. Şekil etrafındaki görseller saat yönünde çevrilmekte



Cevap: C