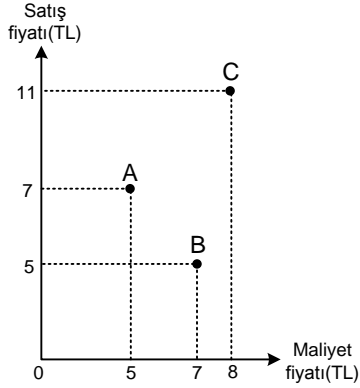


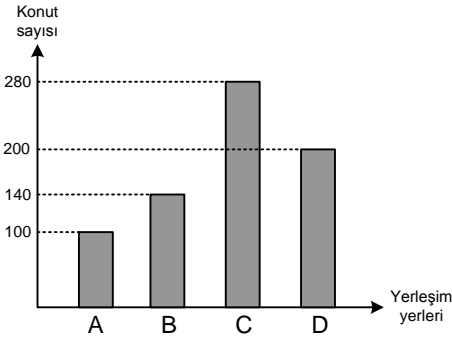
- 1) Grafikte A, B, C noktalarının koordinatları, üç farklı malın maliyet ve satış fiyatlarını göstermektedir.



Bu üç maldan birer adet satıldığında toplam kâr ya da zarar durumu ne olur?

- A) 3 TL kâr. B) 4 TL kâr. C) 5 TL kâr.
D) 3 TL zarar. E) 4 TL zarar.

2)



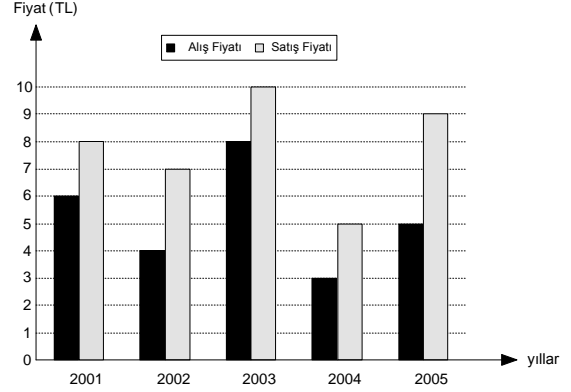
Yukarıdaki sütun grafiği; A, B, C, D yerleşim yerlerindeki konut sayısını göstermektedir.

Bu grafikteki bilgiler bir daire grafiği ile ifade edildiğinde, A yerleşim yerindeki konut sayısını gösteren dilimin merkez açısı kaç derece olur?

- A) 140 B) 100 C) 70 D) 60 E) 50

3. – 5. SORULARI AŞAĞIDAKİ BİLGİLERE GÖRE CEVAPLAYINIZ.

Aşağıdaki grafik, bir işletmenin 2001 – 2005 yıllarını kapsayan dönemde alıp sattığı bir malın alıp ve satış fiyatlarını göstermektedir.



- 3) İşletmede, 2005 yılında bu maldan yüzde kaç kâr elde edilmiştir?

- A) 40 B) 60 C) 70 D) 72 E) 80

- 4) Bir birim malın 2002 yılı satış fiyatı, 2001 yılı satış fiyatına göre yüzde kaç azalmıştır?

- A) 12,5 B) 15 C) 20 D) 22,5 E) 25

- 5) İşletme 2004 yılında bu maldan 5000 birim alıp tamamını satmıştır.

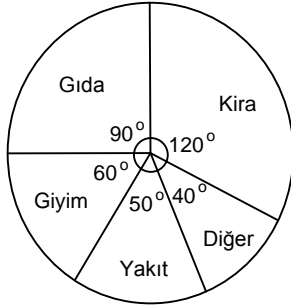
Bu satıştan elde edilen kârın tümüyle 2003 yılı fiyatından kaç birim mal alınabilir?

- A) 500 B) 1000 C) 1250 D) 1500 E) 2000

6. – 7. SORULARI AŞAĞIDAKİ BİLGİLERE GÖRE CEVAPLAYINIZ.

DİKKAT! SORULARI BİRBİRİNDEN BAĞIMSIZ OLARAK CEVAPLAYINIZ.

Aşağıdaki daire grafikte bir kişinin aylık gelirinin harcama kalemlerine göre dağılımı gösterilmiştir.



6) Bu kişinin gıda harcamalarına ayırdığı para aylık gelirinin yüzde kaçtır?

- A) 15 B) 18 C) 20 D) 25 E) 30

7) Bu kişinin aylık gelirinin ve hiçbir harcamasının miktarı bilinmese bile, aşağıdakilerden hangisi hesaplanabilir?

- A) Gıdaya harcadığı para
B) Giyime harcadığı para
C) Kiraya harcadığı para
D) Yakıta harcadığı paranın gıdaya harcadığı paradan kaç TL az olduğu
E) Kiraya harcadığı paranın giyime harcadığı paranın kaç katı olduğu

8) Bu kişinin aylık yakıt harcaması 150 TL ise kira harcaması kaç TL dir?

- A) 300 B) 320 C) 360 D) 380 E) 420

9. - 11. SORULARI AŞAĞIDAKİ BİLGİLERE GÖRE CEVAPLAYINIZ.

Aşağıdaki tabloda, bir şirketin 5 yıl boyunca elde ettiği yıllık kâr miktarları gösterilmiştir.

Yıl	Kâr (bin TL)
2008	440
2009	350
2010	480
2011	420
2012	300

Bu şirket, her yılın sonunda kârının belli bir oranını çalışanlarının sağlık, eğitim, yakıt, giyecek ve yiyecek ihtiyaçlarını karşılamak üzere aşağıdaki daire grafikte gösterilen biçimde çalışanlarına dağıtmaktadır.



Şirketin kârı 400 bin TL'nin altında ise kârının %4'ünü, 400 bin TL ve üzerinde ise %5'ini dağıtmaktadır.

9) Bu şirket, 2010 yılında çalışanlarına kaç bin TL yiyecek yardımı yapmıştır?

- A) 6 B) 7 C) 8 D) 9 E) 10

10) Bu şirket, 2012 yılında çalışanlarına kaç bin TL giyecek yardımı yapmıştır?

- A) 1 B) 1,5 C) 2 D) 2,5 E) 3

11) Bu şirket, 2008 ve 2009 yıllarında çalışanlarına toplam kaç bin TL sağlık yardımı yapmıştır?

- A) 2 B) 3 C) 4 D) 5 E) 6