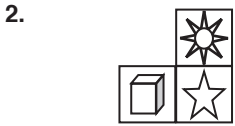
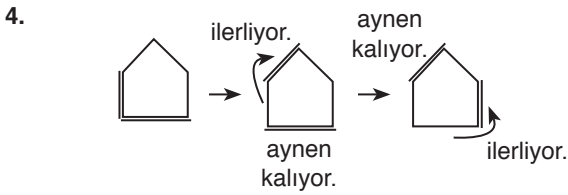
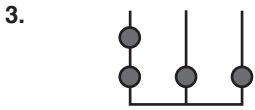


1. $x = \star, y = \bullet, z = \square$ 

Her sütunda aynı şekiller bulunmakta.



II. şekildeki taralı alan III şekilde beyazlıyor. Beyaz olanlar taranıyor.

Cevap: D

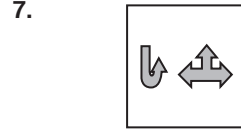
Cevap: B

Cevap: E

Cevap: E

Cevap: B

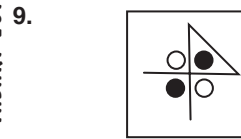
Cevap: E

I'den II'ye alt ayna görüntüsü
II'den III'e saat yönü döndürme

Cevap: E

I'den II'ye alttan yukarıya ters çevirme
II'den III'ye sağ tarafta ayna görüntüsü.

Cevap: C



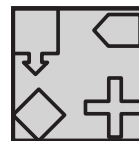
Saatin tersi yönünde çevir.

Cevap: E



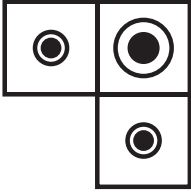
Cevap: C

11. Sola doğru bütün şekil çevrilmekte.



Cevap: D


12.



Her sütunda aynı şekil olacak.

Cevap: D


13.



Siyah daire soldan her seferinde bir azalmakta.

Cevap: B

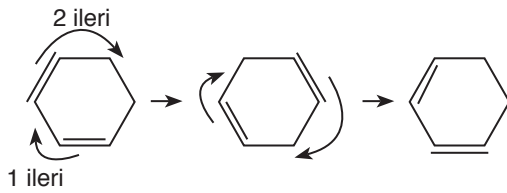
14.



I. ve II. şekiller üst üste konulmakta.

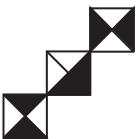
Cevap: B

15.



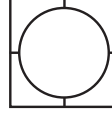
Cevap: C

16.



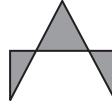
Cevap: D

17.



Cevap: D

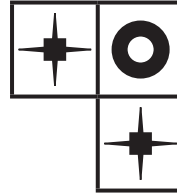
18.



Üst üste konulduğunda iki siyah beyazlaşıyor.

Cevap: C

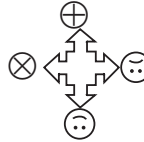
19. Sağa doğru bir kare ilerlemekte



veya her sütunda aynı şekiller olmalı.

Cevap: A

20. Şekil etrafındaki görseller saat yönünde çevrilmekte



Cevap: C