

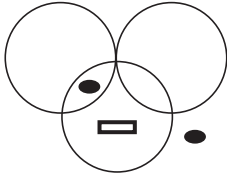
1.



- Siyah noktalar beyazlıyor
- Üçgenler taranıyor
- Diğer beyazlar siyahlaşıyor.

Cevap: D

2.



Cevap: E

3.



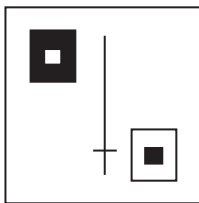
Cevap: B

4.



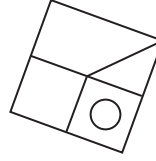
Cevap: D

5.



Cevap: D

6.



Diğer şekiller bir şeklin döndürülmüş halleridir. D seçeneği bunlardan farklıdır.

Cevap: D

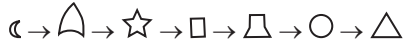
7.



Beyaz olanlardan bir tane fazla

Cevap: B

8.



B seçeneği farklı

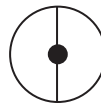
Cevap: B



Cevap: D

Cevap: B

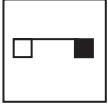
9.



Eksik olan çember D seçeneğindedir.

Cevap: D

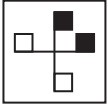
10.



Uçlardaki karelerden biri yukarıda diğer altta olmalı.

Cevap: E

11.



Diğer şekillerde beyaz kareler aynı yöne doğru bakmakta.

Cevap: A

12.



4 siyah 3 beyaz diğerleri


Cevap: D

13.



Cevap: C

14.



1. şekil 180° döndürülerek 2. şeklin altına yerleştirilmiş.

Cevap: C

15.



En sağdaki şekil sol başa gelmiş.

Cevap: E

16.



Diğerlerinde kesik çizgi sayısı tek sayıda

Cevap: E

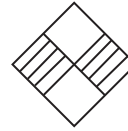
17.



Sağ doğru döndürüldüğünde üçgen peşi sıra siyahlık var.

Cevap: A

18.



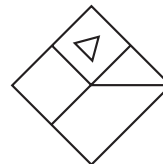
Cevap: B

19.



Cevap: D

20.



Cevap: B