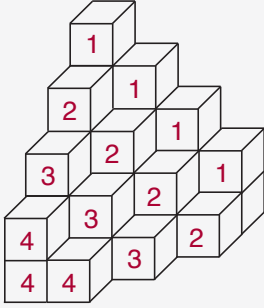


TEST - 1 ÇÖZÜMLER

1.

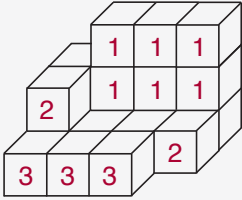


Küplerin üzerinde verilen sayılar kendisi dahil arkasındaki küplerin sayısını belirtiyor.

$$4.(1) + 4.(2) + 3.(3) + 3.(4) = 33$$

Cevap: B

2.

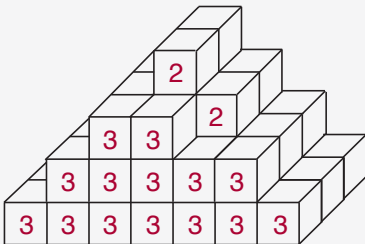


Küplerin üzerinde verilen sayılar kendisi dahil arkasındaki küplerin sayısını belirtiyor.

$$6.(1) + 2.(2) + 3.(3) = 19$$

Cevap: A

3.

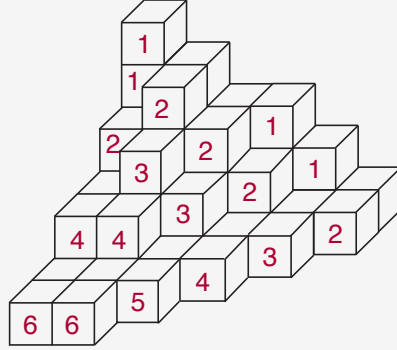


Küplerin üzerinde verilen sayılar kendisi dahil arkasındaki küplerin sayısını belirtiyor.

$$14.(3) + 2.(2) = 46$$

Cevap: A

4.

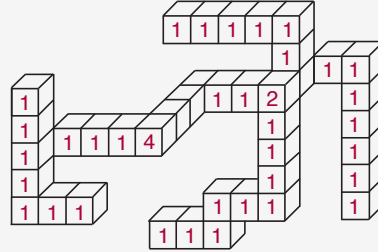


Küplerin üzerinde verilen sayılar kendisi dahil arkasındaki küplerin sayısını belirtiyor.

$$4.(1) + 5.(2) + 3.(3) + 3.(4) + 1.(5) + 2.(6) = 52$$

Cevap: E

5.

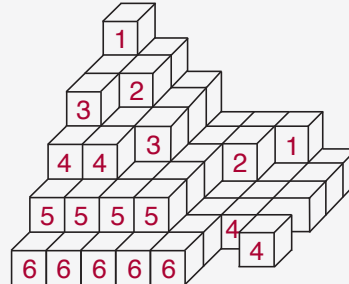


Küplerin üzerinde verilen sayılar kendisi dahil arkasındaki küplerin sayısını belirtiyor.

$$34.(1) + 1.(4) + 1.(2) = 40$$

Cevap: A

6.

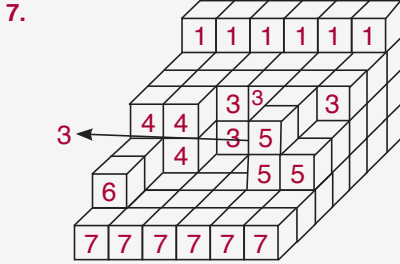


Küplerin üzerinde verilen sayılar kendisi dahil arkasındaki küplerin sayısını belirtiyor.

$$2.(1) + 2.(2) + 2.(3) + 4.(4) + 4.(5) + 5.(6) = 78$$

Cevap: B

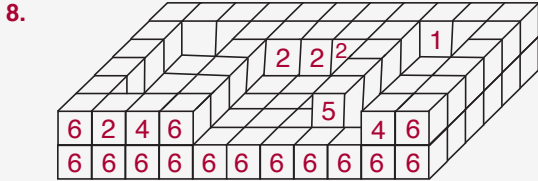
TEST - 1 ÇÖZÜMLER



Küplerin üzerinde verilen sayılar kendisi dahil arkasındaki küplerin sayısını belirtiyor.

$$6.(1) + 5.(3) + 3.(4) + 3.(5) + 1.(6) + 6.(7) = 96$$

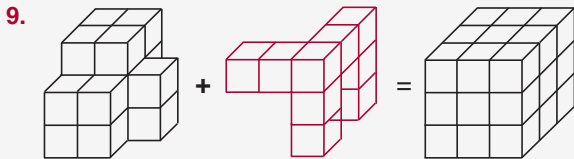
Cevap: A



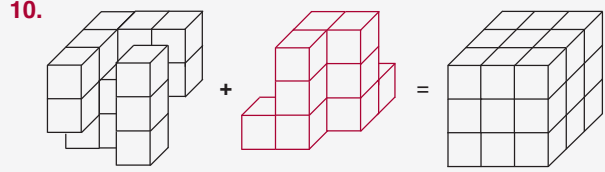
Küplerin üzerinde verilen sayılar kendisi dahil arkasındaki küplerin sayısını belirtiyor.

$$1.(1) + 4.(2) + 2.(4) + 1.(5) + 14.(6) = 106$$

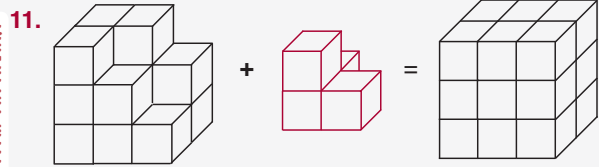
Cevap: D



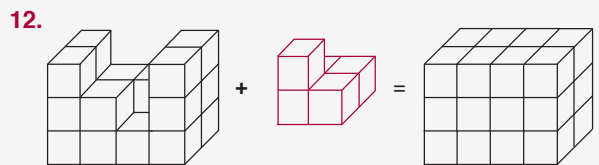
Cevap: A



Cevap: C



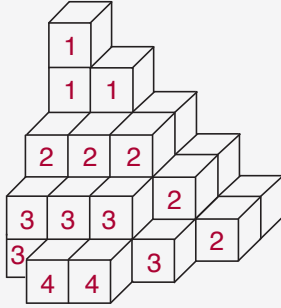
Cevap: D



Cevap: E

TEST - 2 ÇÖZÜMLER

1.

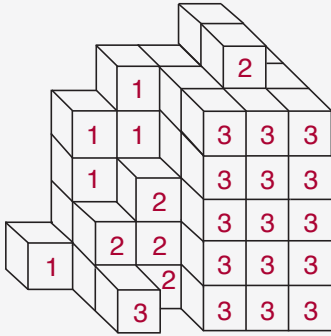


Küplerin üzerinde verilen sayılar kendisi dahil arkasındaki küplerin sayısını belirtiyor.

$$3.(1) + 5.(2) + 5.(3) + 2.(4) = 36$$

Cevap: A

2.

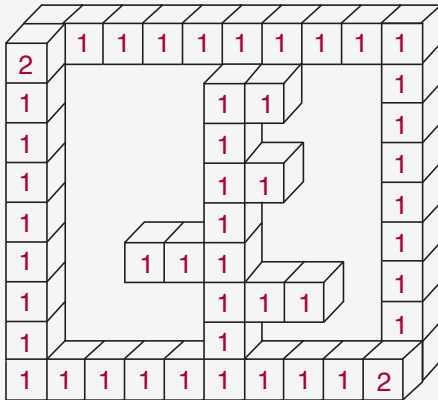


Küplerin üzerinde verilen sayılar kendisi dahil arkasındaki küplerin sayısını belirtiyor.

$$5.(1) + 5.(2) + 16.(3) = 63$$

Cevap: B

3.

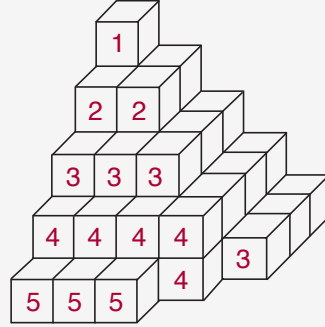


Küplerin üzerinde verilen sayılar kendisi dahil arkasındaki küplerin sayısını belirtiyor.

$$45.(1) + 2.(2) = 49$$

Cevap: B

4.

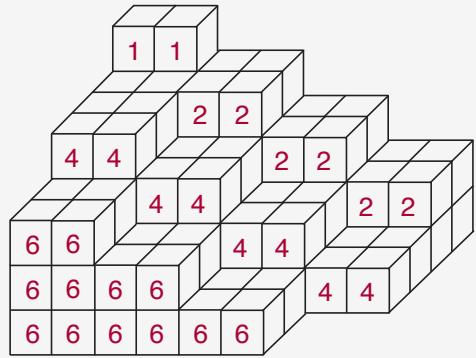


Küplerin üzerinde verilen sayılar kendisi dahil arkasındaki küplerin sayısını belirtiyor.

$$1.(1) + 2.(2) + 4.(3) + 5.(4) + 3.(5) = 52$$

Cevap: C

5.

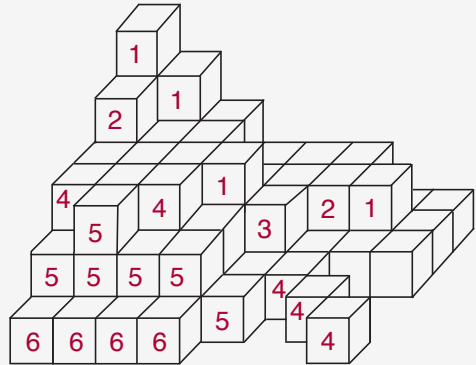


Küplerin üzerinde verilen sayılar kendisi dahil arkasındaki küplerin sayısını belirtiyor.

$$2.(1) + 6.(2) + 8.(4) + 12.(6) = 118$$

Cevap: D

6.



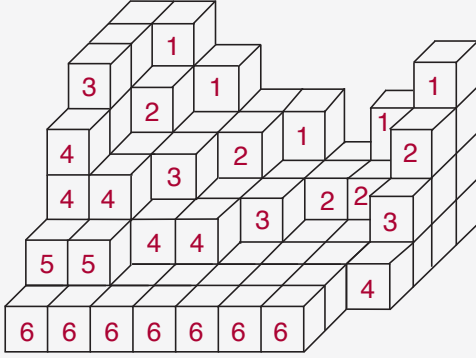
Küplerin üzerinde verilen sayılar kendisi dahil arkasındaki küplerin sayısını belirtiyor.

$$4.(1) + 2.(2) + 1.(3) + 5.(4) + 6.(5) + 4.(6) = 85$$

Cevap: B

TEST - 2 ÇÖZÜMLER

7.

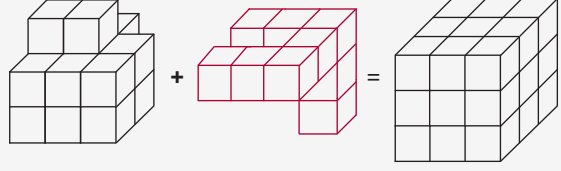


Küplerin üzerinde verilen sayılar kendisi dahil arkasındaki küplerin sayısını belirtiyor.

$$5.(1) + 5.(2) + 4.(3) + 6.(4) + 2.(5) + 7.(6) = 103$$

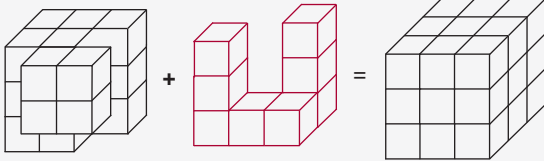
Cevap: E

10.



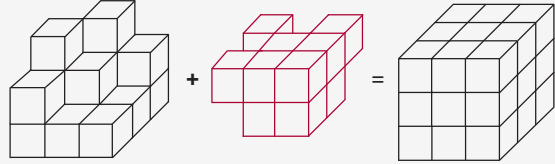
Cevap: E

8.



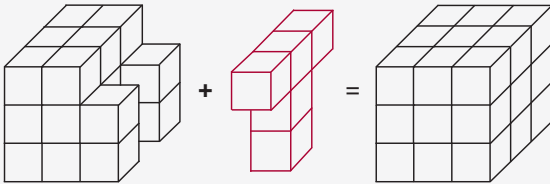
Cevap: B

11.



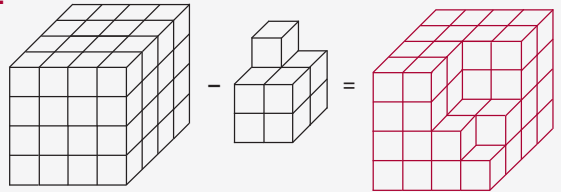
Cevap: D

9.



Cevap: D

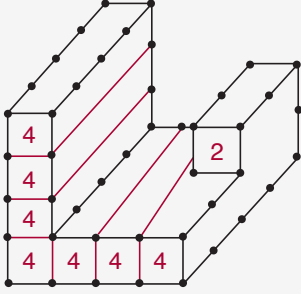
12.



Cevap: D

TEST - 3 ÇÖZÜMLER

1.

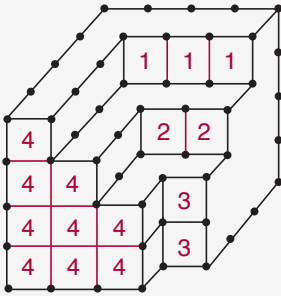


Küplerin üzerinde verilen sayılar kendisi dahil arkasındaki küplerin sayısını belirtiyor.

$$1.(2) + 7.(4) = 30$$

Cevap: C

2.

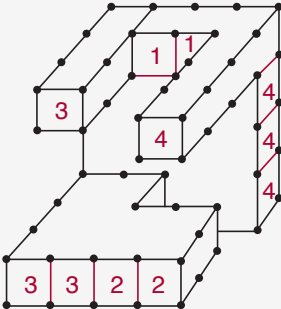


Küplerin üzerinde verilen sayılar kendisi dahil arkasındaki küplerin sayısını belirtiyor.

$$3.(1) + 2.(2) + 2.(3) + 9.(4) = 49$$

Cevap: A

3.

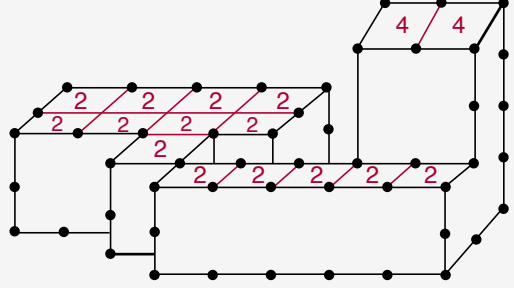


Küplerin üzerinde verilen sayılar kendisi dahil arkasındaki küplerin sayısını belirtiyor.

$$2.(1) + 2.(2) + 3.(3) + 4.(4) = 31$$

Cevap: E

4.

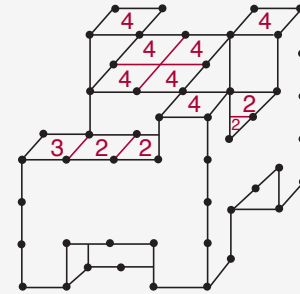


Küplerin üzerinde verilen sayılar kendisi dahil altındaki küplerin sayısını belirtiyor.

$$14.(2) + 2.(4) = 36$$

Cevap: B

5.

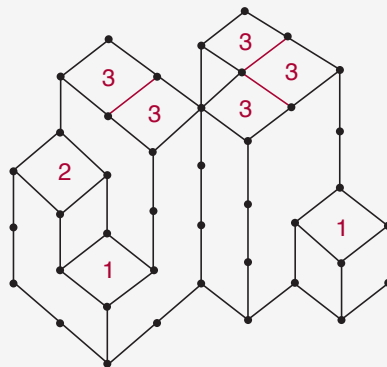


Küplerin üzerinde verilen sayılar kendisi dahil altındaki küplerin sayısını belirtiyor.

$$4.(2) + 1.(3) + 7.(4) = 39$$

Cevap: B

6.



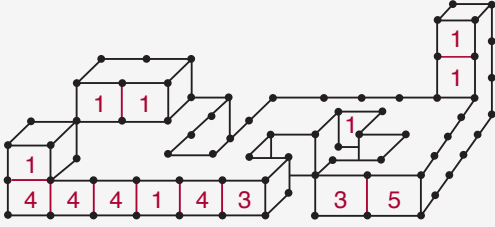
Küplerin üzerinde verilen sayılar kendisi dahil altındaki küplerin sayısını belirtiyor.

$$2.(1) + 1.(2) + 5.(3) = 19$$

Cevap: C

TEST - 3 ÇÖZÜMLER

7.

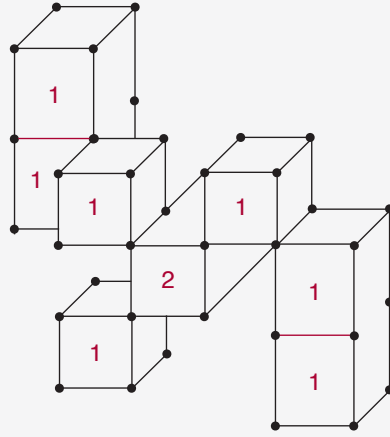


Küplerin üzerinde verilen sayılar kendisi dahil arkasındaki küplerin sayısını belirtiyor.

$$7.(1) + 2.(3) + 4.(4) + 1.(5) = 34$$

Cevap: C

9.

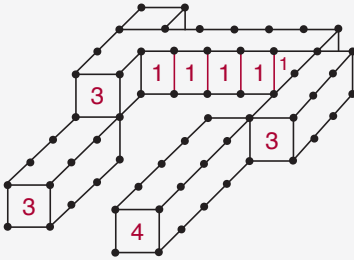


Küplerin üzerinde verilen sayılar kendisi dahil arkasındaki küplerin sayısını belirtiyor.

$$7.(1) + 1.(2) = 9$$

Cevap: D

8.



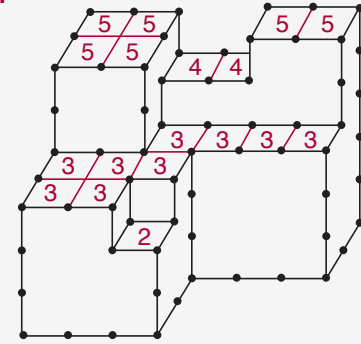
Küplerin üzerinde verilen sayılar kendisi dahil arkasındaki küplerin sayısını belirtiyor.

$$5.(1) + 3.(3) + 1.(4) = 18$$

Cevap: A

TASARI EĞİTİM YAYINLARI

10.



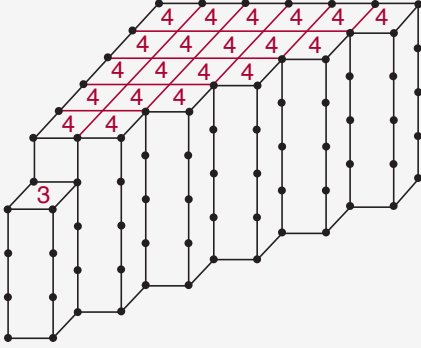
Küplerin üzerinde verilen sayılar kendisi dahil altındaki küplerin sayısını belirtiyor.

$$1.(2) + 9.(3) + 2.(4) + 6.(5) = 67$$

Cevap: E

TEST - 3 ÇÖZÜMLER

11.

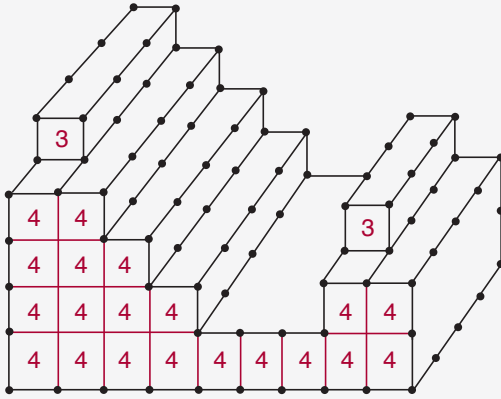


Küplerin üzerinde verilen sayılar kendisi dahil altındaki küplerin sayısını belirtiyor.

$$1.(3) + 20.(4) = 83$$

Cevap: D

12.



Küplerin üzerinde verilen sayılar kendisi dahil arkasındaki küplerin sayısını belirtiyor.

$$2.(3) + 20.(4) = 86$$

Cevap: C