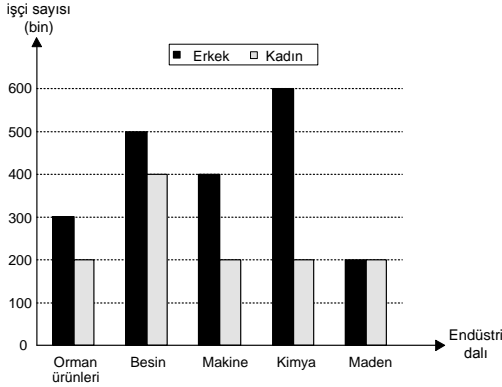


**1.- 3. SORULARI AŞAĞIDAKİ BİLGİLERE GÖRE CEVAPLAYINIZ.**

Aşağıdaki grafikte bir ülkede belirli endüstri dallarında çalışan kadın ve erkek işçi sayıları gösterilmiştir.



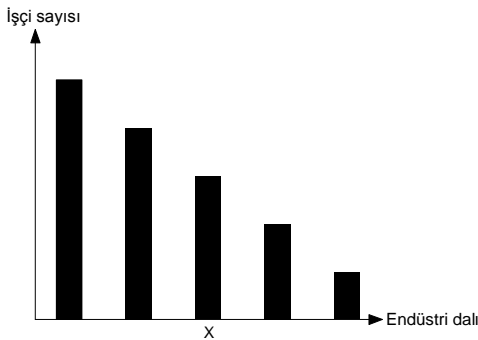
1) Orman ürünleri endüstrisinde çalışan işçilerin yüzde kaç kadındır?

- A) 40 B) 35 C) 30 D) 25 E) 20

2) Bu beş endüstri dalında çalışan erkek işçi sayıları daire grafiği ile gösterildiğinde, kimya endüstrisinde çalışan erkek işçilere ait daire diliminin merkez açısı kaç derece olur?

- A) 90 B) 100 C) 105 D) 108 E) 112

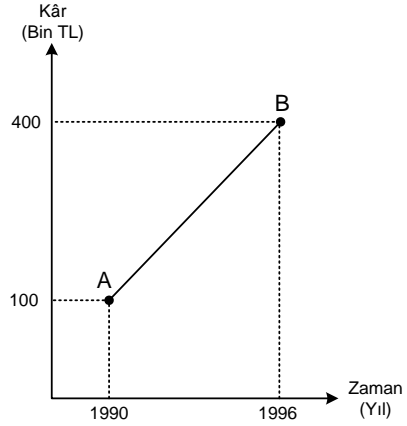
3) Grafikteki beş endüstri dalı, çalışan toplam işçi sayısı bakımından büyükten küçüğe doğru sıralandığında aşağıdaki grafik elde ediliyor.



Buna göre, X ile işaretlenen sütun hangi endüstri dalını göstermektedir?

- A) Orman ürünleri B) Besin C) Makine  
D) Kimya E) Maden

4)



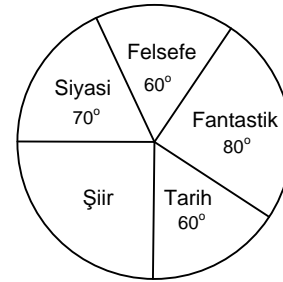
Yukarıdaki doğrusal grafik bir fabrikanın yedi yıl boyunca elde ettiği yıllık kârları göstermektedir.

Buna göre, hangi yılda fabrika 200 bin TL kâr elde etmiştir?

- A) 1991 B) 1992 C) 1993 D) 1994 E) 1995

**5. VE 6. SORULARI AŞAĞIDAKİ BİLGİLERE GÖRE CEVAPLAYINIZ.**

1000 üniversite öğrencisine uygulanan bir ankette öğrencilerin % 18 i düzenli olarak kitap okuduğunu belirtmiştir. Kitap okuyan öğrencilerin en çok beğendiği kitap türlerine göre dağılımını gösteren daire grafik aşağıda verilmiştir.



5) Şiir kitaplarını beğenen öğrencilerin düzenli kitap okuyan öğrenciler içindeki yüzdesi kaçtır?

- A) 10 B) 12 C) 15 D) 20 E) 25

6) Grafiğe göre, aşağıdakilerden hangisi yanlıştır?

- A) Felsefe ve tarih kitaplarını beğenenlerin sayısı eşittir.  
B) Fantastik kitapları beğenenlerin sayısı 40 tır.  
C) En çok beğenilen ikinci kitap türü siyasi kitaplardır.  
D) Siyasi kitapları beğenenlerin sayısı 35 tir.  
E) En çok beğenilen kitap türü şiir kitaplarıdır.

7. – 9. SORULARI AŞAĞIDAKİ BİLGİLERE GÖRE CEVAPLAYINIZ.

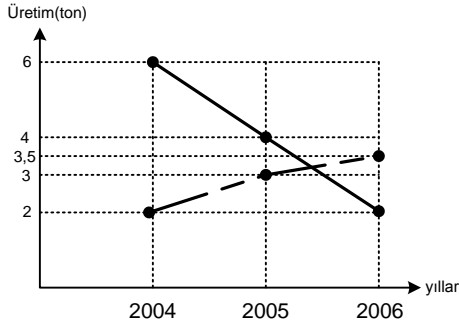
Aşağıdaki tabloda bir fırında 2004, 2005 ve 2006 yıllarında üretilen unlu mamullerin miktarları ton türünden verilmiştir.

	2004	2005	2006
Simit	2	3	3,5
Ayçöreği	5	6	2,5
Poğaç	6	4	2
Kurabiye	7	7	10

7) 2005 yılındaki ayçöreği üretiminin, o yılki toplam üretim içindeki payı yüzde kaçtır?

- A) 15 B) 20 C) 25 D) 30 E) 35

8)

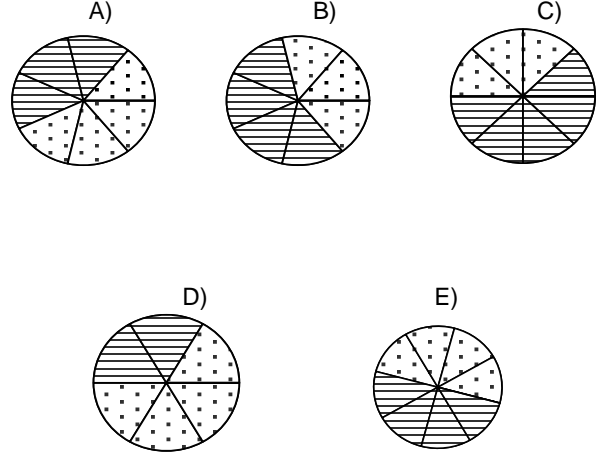


Yukarıdaki grafik, hangi unlu mamullerin üretim miktarlarındaki üç yıllık değişimi göstermektedir?

- A) Poğaç ve simit  
B) Kurabiye ve ayçöreği  
C) Poğaç ve ayçöreği  
D) Kurabiye ve simit  
E) Poğaç ve kurabiye

9) Üç yılda üretilen toplam kurabiye miktarı ile toplam poğaç miktarının birbirine oranı bir daire grafiğiyle gösteriliyor.

Bu daire grafiği aşağıdakilerden hangisi olabilir? (Her grafik kendi içinde eşit dilimlere ayrılmıştır; grafiklerde noktalı dilimler kurabiye, çizgili dilimler poğaçayı göstermektedir.)



10) Ayşe 90 sayfalık bir kitabın 1. gün 10, 2. gün 20, 3. gün 30 ve 4. gün de kalan 30 sayfasını okuyor.

Buna göre, Ayşe'nin günlük okuduğu sayfa sayısının güne göre değişimini gösteren grafik aşağıdakilerden hangisi olabilir?

