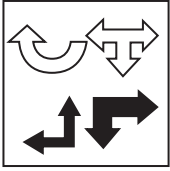


1.



Diğerleri saat yönünde çevrildikçe oluşan şekiller

Cevap: E

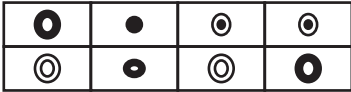
2. Sola bir kare ilerliyor.



veya her sütunda aynı şekiller olmalı.

Cevap: E

3.



Cevap: A

4.



Sağ sol şekil aynı, ortadaki bunların ters çevrilmiş hali

Cevap: A

5.



Cevap: C

6.



İki taralı şekil aynı dilimde taranmamış şekil tek başına

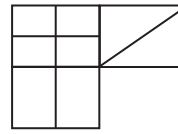
Cevap: D

7. Şekiller sola doğru ilerlemekte



Cevap: B

8.



I = III

II = IV aynı olmalı

Cevap: B

9.

Aynı sütundaki I ve II şekil üst üste gelmekte  
İçeride kalan taranmakta

Cevap: A

10.



Sol iki şekil üst üste konulmakta

Cevap: E

11.



Cevap: E

12.



Cevap: C

13.




Cevap: B

14.



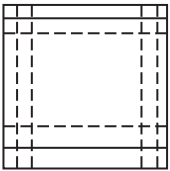
Cevap: B

15.



Cevap: B

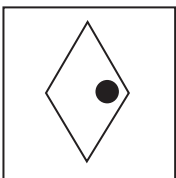
16.



Düz çizgi kesik ile kesik düz çizgi ile tamamlanmakta


Cevap: E

17.




Cevap: D

18.



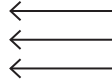
Cevap: A

19. I ve II şekil üst üste konulmakta iki siyah beyazlamakta



Cevap: B

20.



Cevap: E